

Шифр участника

11-91**ЗАДАНИЯ ДЛЯ ОБУЧАЮЩИХСЯ****Время выполнения заданий – 90 минут**
Максимальное количество баллов – 100 баллов

785.

Задание 1. Выберите правильный ответ. (Максимальный балл за задание – 5 баллов.
По 1 баллу за отрывок). О ком идет речь в данном отрывке? Ответ занесите в таблицу.

1.1. Дочь князя Ангальт-Цербстского, эта императрица взошла на престол в результате дворцового переворота против своего супруга, вскоре погибшего при невыясненных обстоятельствах. Правление этой государыни ознаменовалось максимальным закрепощением крестьян и всесторонним расширением привилегий дворянства. Границы Российской империи в годы её правления были значительно сдвинуты на запад и на юг.

А. Анна Иоанновна

В. Екатерина II

Б. Елизавета Петровна

Г. Екатерина I

1.2. Саксонский посол в России сравнивал правление этого императора с кораблем, который несётся по воле ветров, в то время как капитан и весь экипаж спят или развлекаются: «Непостижимо, как такой обширный механизм может действовать без всякой помощи и усилий со стороны. Всякий стремится только свалить с себя тяжесть, никто не хочет принять на себя ни малейшей ответственности, все жмутся в сторонке...». Этот император, вступив на престол в очень юном возрасте, не проявлял никакого интереса к государственным делам, а более был занят собственными развлечениями. В годы его правления часто происходили бедствия, армия и флот были в кризисе, процветало взяточничество и казнокрадство. Будучи внуком великого русского государя, этот император не оправдал своего имени и бесславно скончался в возрасте всего 14 лет.

А. Петр III

В. Иоанн VI

Б. Петр II

Г. Павел I

1.3. Несмотря на то прозвище, под которым этот русский царь вошел в историю, годы его правления спокойными назвать нельзя. Едва став царём, он подписал указ о составлении Переписных книг, то есть, проведении переписи. Активно занимался государственным реформированием: было принято Соборное уложение - новые основы законодательства России; проведена (хоть и неуспешно) финансовая реформа; учреждены новые центральные приказы — Монастырский, Малороссийский, Рейтарский, Счетный, Литовский, Хлебный, Тайных дел. Заключены Кардисский мирный договор и Андрусовское перемирие. Однако

Шифр участника _____

обратной стороной внешней и внутренней политики государя стали народные беспокойства в стране: в годы его правления прошло несколько бунтов, включая крупное казацко-крестьянское восстание.

- А. Алексей Михайлович
- Б. Михаил Федорович

- В. Борис Годунов
- Г. Василий Дмитриевич

1.4. В её правление были проведены военная и налоговая реформы, развивалась промышленность, поощрялась торговля с иностранными государствами. Голицын, ставший правой рукой этой правительницы, привозил в Россию иностранных мастеров, известных учителей и искусников, поощрял внедрение в стране иностранного опыта. Опаснейшим врагом её становился подрастающий старший брат. Для сохранения собственной власти она решила прибегнуть к помощи стрельцов, однако просчиталась. Стрельцы присягнули на верность старшему брату правительницы, а тот приказал заключить сестру в Новодевичий монастырь.

- А. Екатерина I
- Б. Анна Леопольдовна

- В. Царевна Софья
- Г. Анна Иоанновна

1.5. «Дон-Кихот на троне», «русский Гамлет», «царь-рыцарь», «безумный тиран» - за своё сравнительно недолгое правление этот русский царь заслужил немало прозвищ. Одни в нем видели добродетельного государя, чьи мысли были исключительно о благе простого народа: царь сократил срок барщины и уменьшил оброк. Другие – непоседливого, безумного правителя, мечтавшего отомстить всем, кто когда-то издевался над некажистым наследником престола, и перекроить всё, что осталось от правления его великой матери.

- А. Петр I
- Б. Павел I

- В. Александра I
- Г. Петр III

Ответ:

1.1	1.2	1.3	1.4	1.5
В +	Б +	А +	В +	Б +

58.

Задание 2. Выберите правильный ответ. Выберите верное понятие (Максимальный балл за задание – 5 баллов, за каждый правильный ответ – 1 балл)

2.1. Система оборонительных сооружений, применявшаяся с XIII века на Руси и получившая особое развитие в XVI-XVII веках на южных границах Российского государства

Шифр участника _____

для защиты от нашествия монгольских и крымских войск, а также в качестве опоры при наступлении противника

А. Оградительный рубеж

В. Великая стена

Б. Засечные черты

Г. Сторожевые башни

2.2. Название различных поселений в Русском государстве XI-XVII веков (стрелецкие, иноземные, монастырские и т.д.), население которых временно освобождалось от уплаты налогов в казну

А. Слобода

В. Урок

Б. Погост

Г. Посад

2.3. Экономическая политика государства, направленная на защиту национальной экономики от иностранной конкуренции

А. Рационализм

В. Протекционизм

Б. Меркантилизм

Г. Фундаментализм

2.4. Обращение государством церковной собственности в светскую. В широком смысле – освобождение от принадлежности к церкви.

А. Секуляризация

В. Нейтрализация

Б. Рационализация

Г. Межевание

2.5. Высший государственный орган в России, подчиненный императору, с 1711 по 1917 г.

А. Синод

В. Сенат

Б. Государственная Дума

Г. Государственный Совет

Ответ:

2.1	2.2	2.3	2.4	2.5
Г	А +	В +	А +	В +

45.

Задание 3. Установите соответствие между деятелями отечественной и всемирной истории и событием, современниками которого они были. Обратите внимание, во втором и третьем столбцах содержатся лишние элементы. (Максимальный балл за задание – 10 баллов. За каждый правильный ответ – 1 балл.)

Шифр участника _____

Событие	Деятель отечественной истории	Деятель всемирной истории
1. Семилетняя война	А) Андрей Курбский	А) Английский король Эдуард IV Йорк
2. Полтавская битва	Б) Иван III	Б) Английская королева Виктория
3. Стояние на Угре	В) Елизавета Петровна	В) Карл XII Шведский
4. Крещение Руси	Г) Александр Меншиков	Г) Фридрих II Прусский
5. Опричнина	Д) Рюрик	Д) Византийский император Василий II Болгаробойца
	Е) Князь Владимир Святославович	Е) Английская королева Елизавета I

Ответ:

Событие	1	2	3	4	5
Деятель отечественной истории	В +	Г +	Б +	Е +	А +
Деятель всемирной истории	Г +	В +	А +	Д +	Б

95.

Задание 4. Какие из перечисленных явлений возникли в России в XVI веке
(Максимальный балл за задание – 3 балла, каждый верный ответ – 1 балл)

- А. Урочные лета
- Б. Кормление
- В. Опричнина
- Г. Старообрядчество
- Д. Местничество
- Е. Заповедные лета

Ответ: В, А, Е 35
+ + +

Задание 5. (Максимальный балл за задание – 4 балла)

5.1. Укажите год, которым следует продолжить ряд
1710, 1735, 1768, 1784 + 25

Шифр участника _____

5.2. Расположите события в правильной хронологической последовательности

- А. Битва на р. Калке
- Б. Стояние на Угре
- В. Полтавская битва
- Г. Куликовская битва
- Д. Сражение при Гренгаме

Ответ:

1	2	3	4	5
A +	Г +	Б +	В +	Д +

Задание 6. Прочитайте документы и ответьте на вопросы к ним (Максимальный балл за задание – 10 баллов, каждый верный ответ – 1 балл)

6.1. «Матушка моя жила у Бирона в последние годы его силы и власти; при ней казнили Вольнского, Хрущева, Еропкина, а Мусин-Пушкину отрезали язык. Рассказывала матушка, что была однажды свидетельницей большой охоты в Петергофе, на которой императрица _____ собственноручно застрелила волка, кабана, оленя и нескольких зайцев. Бироны жили очень роскошно; одних бриллиантов у его жены было более чем на 2 000 000 руб., да перед самым свержением она заказала платье, унизанное жемчугом, ценою в 100 000 руб.

Про самое свержение Бирона матушка рассказывала, что ночью услышала страшный шум в спальне, вбежала туда и увидела, как Бирона в одной рубашке тащили солдаты на улицу, а когда посадили в карету и увезли, то жену его отыскиали на снегу; потом и ее увезли, и с тех пор матушка оставила Петербург.

Про время Бирона страшно было слушать рассказы стариков и старушек. За неплатеж недоимок ставили на правеж и начальников, и неплательщиков, и их родных, и их соседей. Бывало, придет воинская команда, и выводят на правеж виноватых и правых, и поставят их рядом голыми ногами на снег, бьют палками, и морят по темницам. По городу только и слышны были палочные удары, звук цепей и стоны несчастных бедняков, их жен и детей. Лазутчиков было множество везде и повсюду; бывало муж с женою, брат с братом, отец с сыном боялись громко говорить, а когда прощались, то прощались навсегда, потому что никто не знал, увидятся ли завтра. Я была маленькая, и помню, как по Ельцу ходила одна страшная

Шифр участника _____

Жители города Москвы послали в лагерь к Болотникову такое требование: если тот Дмитрий, который прежде был в Москве, жив и находится у него в лагере или где-либо в ином месте, то пусть Болотников покажет его или призовет его к себе, чтобы они увидели его собственными глазами. Если это произойдет, они перед Дмитрием смирятся, будут умолять о прощении и милости и сдадутся ему без сопротивления.

Болотников ответил, что Дмитрий действительно живет в Польше и скоро будет здесь. Он сказал также: «Я у него был, и он сам лично назначил меня вместо себя старшим военачальником и отправил в Путивль с письменным распоряжением». Московиты сказали: «Это несомненно другой, мы того Дмитрия убили» — и стали уговаривать Болотникова, чтобы он перестал проливать невинную кровь и сдался царю..., а тот сделает его большим человеком».

1. Какое название в отечественной истории получил период, события которого описываются в тексте? Смуты 15.

2. К какому веку относятся эти события? XVII в 15.




3. В чье правление в России происходили описываемые события? Вашингтон Шестой 15.

4. Какие преимущества мятежников, позволявшие им одерживать победы, указываются в тексте? маленький атаман Болотников Иван 15.

5. Каков был итог восстания, о событиях которого идет речь в тексте? поражение восставших 15.

Задание 7. Установите соответствие между фамилией деятеля культуры и созданным им памятником культуры. (Максимальный балл за задание – 14 баллов. Каждый верный ответ – 1 балл.)

Шифр участника _____

Деятель культура	Памятник культуры
<ol style="list-style-type: none"> 1. Монах Лаврентий 2. Протопоп Сильвестр 3. Г. Р. Державин 4. Денис Иванович Фонвизин 5. Симон Ушаков 6. Н. М. Карамзин 7. А. Н. Радищев 8. Владимир Мономах 9. Екатерина II Великая 10. Митрополит Иларион 11. Иван Пересветов 12. Франческо Растрелли 13. Н. И. Новиков 14. И. Акимов 	<p>А.</p>  <p>Б. «Поучение детям» В. Комедия «Недоросль» Г. «Слово о законе и благодати» Д. Журнал «Трутенъ» Е. «Лаврентьевская летопись» Ж.</p>  <p>З. Повесть «Путешествие из Петербурга в Москву» И.</p>  <p>К. Ода Екатерине II Л. Повесть «Бедная Лиза» М. «Домострой» Н. Журнал «Всякая всячина» О. «Сказание о Магмете-салтане»</p>

Ответ:

1	2	3	4	5	6	7	8	9	10	11	12	13	14
Е		К	В		Л	З			Г		И		

76.

+ + + + + + + +

Шифр участника _____

Задание 8. Рассмотрите карту и ответьте на вопросы (Максимальный балл за задание

– 12 баллов, каждый верный ответ – 2 балла)

8.1. Укажите век, когда произошли события, обозначенные на карте

XIV в. 2 балла

8.2. Укажите название битвы, обозначенной на карте

Куликовская 2 балла

8.3. Назовите военачальника, командующего войском, поход которого обозначен в условных обозначениях карты цифрой 5

Мамай 2 балла

8.4. Выберите верные утверждения:

А. Командующим русскими войсками в этой битве был князь Московский Дмитрий Иванович Донской.

Б. Данная битва произошла в правление Ивана IV Грозного.

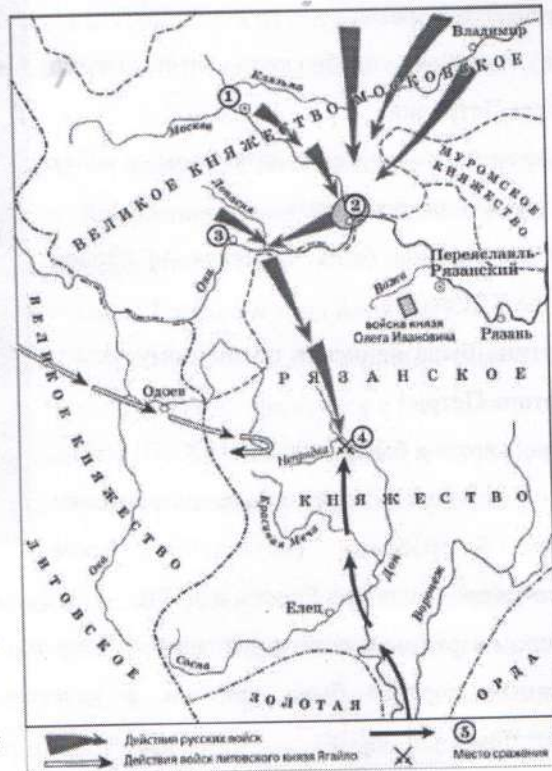
В. Победа в битве позволила полностью освободиться русскому государству от монголо-татарского ига.

Г. Данная битва имела далеко идущие политические последствия на пути к будущему полному свержению монголо-татарского ига, так как стала первой серьезной победой русских войск против Золотой Орды.

Д. Победа в этой битве закрепила за Москвой положение центра объединения русских земель.

Е. Возглавлял русское войско в этой битве князь Иван Калита.

Ответ: В, Г, Д 4 балла



Задание 9. Какие суждения о представленной картине являются верными?

(Максимальный балл за задание – 12 баллов. Каждый верный ответ – 2 балла)

А. Представленная картина является примером парадного портрета

Шифр участника _____

- Б. На картине изображена Анна Иоанновна
В. Автором картины является придворный художник Луи Каравак
Г. На картине изображена императрица Елизавета Петровна
Д. Картина является примером работ художников-передвижников
Е. Данная картина была написана во второй половине XIX века
Ж. Картина была написана по личному заказу императора Петра I
З. Данная картина была написана в XVIII веке
И. Автор картины относится к представителям французской россики (западноевропейские художники работавших в России в XVIII)



- К. Автором картины является художник Ф. Рокотов
Л. Данный портрет была написан в качестве официального изображений новой императрицы

Ответ: _____

+ + + +
А, З, Л, Г 85.

Задание 10. Напишите эссе. Выберите одно из высказываний историка о событиях и деятелях отечественной истории. Оно станет темой вашего эссе. (Максимальный балл – 25 баллов)

Темы эссе:

1. Александр сделал судьбоносный выбор между Востоком и Западом в пользу Востока. Пойдя на союз с Ордой, он предотвратил поглощение Северной Руси католической Европой и тем самым спас русское православие— основу самобытности (Л.Н. Гумилев об Александре Невском)
2. Княжение Дмитрия Донского ознаменовано мощным подъемом самосознания великорусского народа... Дмитрий Донской стал первым политиком, действия которого определялись государственными интересами. (С.М. Соловьев)

Шифр участника _____

- 2- Предполагается привлечение участником суждений как историков, так и современников рассматриваемого явления или периода (названа 1 фамилия историка или современника или 1 - приведены позиции по данной теме).
- 1- Приведены общие представления по историографии темы без конкретных фамилий исследователей или их позиций по теме.

Номер высказывания (темы эссе): 5

Петр первый и правда был великим человеком. Благодаря сильному характеру, он сумел построить царство Империя. Таким членом во внешней политике. Я считаю, что это самое значимое достижение для всей России. Одержав победу в Северной войне над Швецией в 1721 году, мы получили выход к Балтийскому морю, благодаря которому стала активно развиваться экономика страны и морской флот.

Климао важными были административные реформы. Страна была разделена на 8 губерний. В 1711 году был создан высший орган власти, во время отлучества Петра - сенат. А также был учредён и синод. Санкт-Петербург стал новой столицей, который и по сей день считается второй столицей нашей страны.

Шифр участника _____

В связи с Северной войной были проведены и военные реформы. Появилась рекрутская повинность. Был издан военный, а затем и морской устав. Созданы многие школы, направленные на изучение военного дела.

Многие современные историки считают, что Петр первый однозначно был героем своего времени, до сих пор говорят: "Петр I прогнул окно в Европу". Так и есть, Петр Великий смог сделать из нашей страны сильную и независимую державу на мировой арене.

1 - 58.

2 - 48.

3 - 48.

4 - 5

5 - 0.

188.